

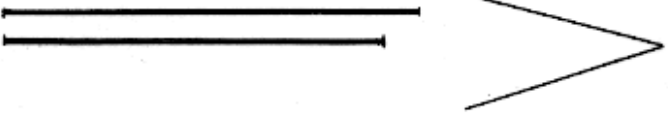

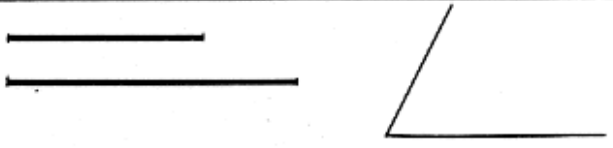
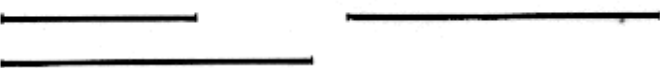
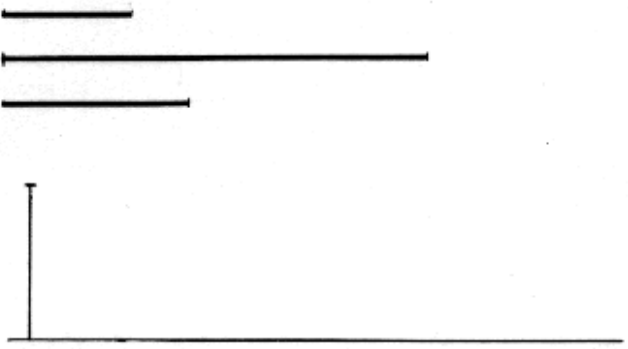
 <p>Cuadrado conociendo la diagonal</p>	 <p>Rectángulo conociendo la diagonal y un lado</p>
 <p>Rombo conociendo la diagonal y un lado</p>	 <p>Romboide conociendo las diagonales y el ángulo que forman</p>
 <p>Trapezio rectángulo conociendo las bases y la altura</p>	 <p>Trapezio isósceles conociendo las bases y dos ángulos iguales</p>
 <p>Trapezio rectángulo conociendo las bases y un lado</p>	 <p>Trapezio escaleno conociendo las bases, la altura y un lado</p>